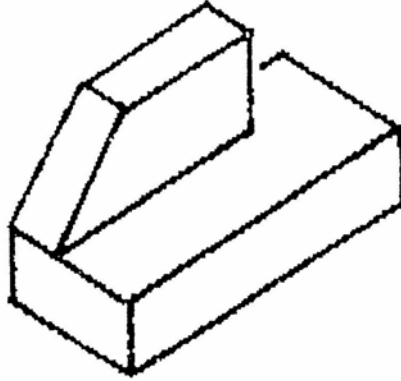



Ερωτήσεις πολλαπλής επιλογής

Επιλέξτε τη σωστή απάντηση, θέτοντας σε κύκλο το κατάλληλο γράμμα


1. Ποια από τις παρακάτω κατόψεις Α, Β, Γ, Δ είναι η σωστή για το εικονιζόμενο σε αξονική προβολή αντικείμενο;



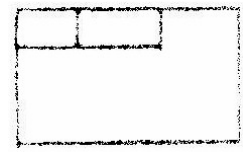
A



B


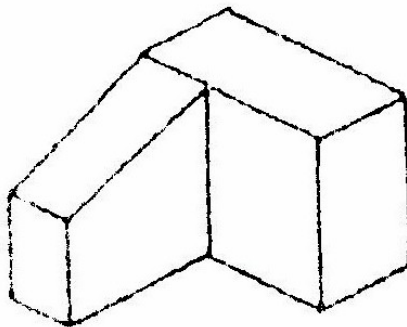


Γ



Δ


2. Ποια από τις τρεις διατάξεις όψεων Α, Β, Γ αντιστοιχεί στο εικονιζόμενο με αξονομετρική προβολή αντικείμενο;



A



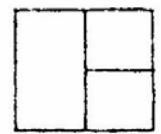
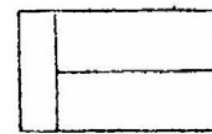
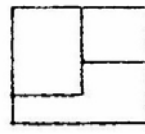
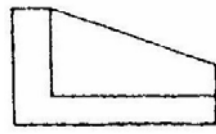
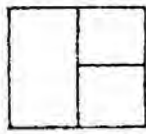
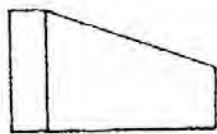
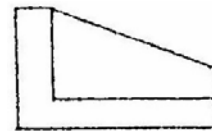


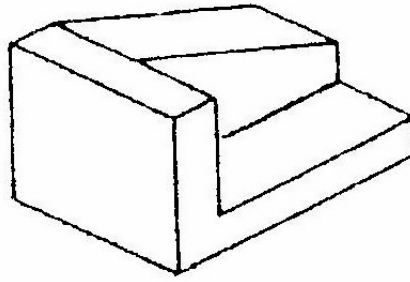
B



Γ



3. Ποια από τις τρεις διατάξεις όψεων 1, 2, 3 αντιστοιχεί στο εικονιζόμενο με αξονομετρική προβολή αντικείμενο;

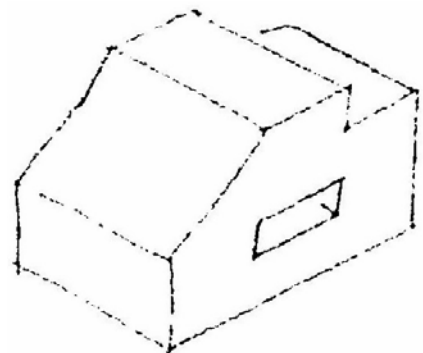
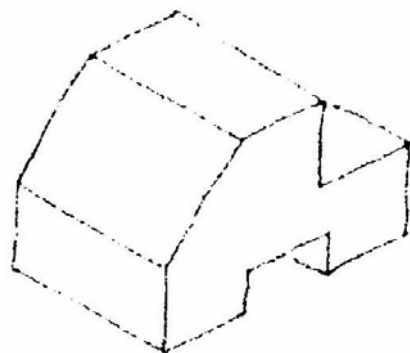
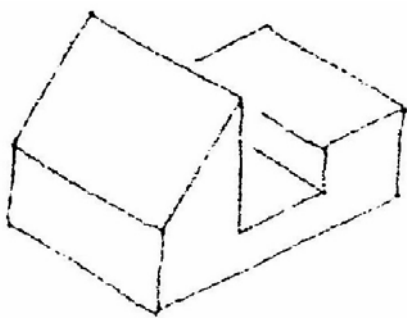
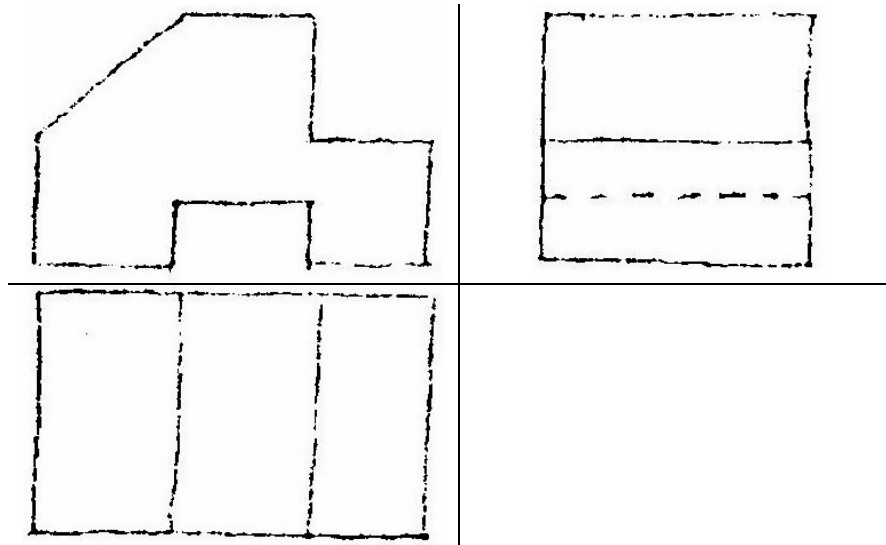


1

2

3

4. Σε ποιο από τα τρία αντικείμενα, που είναι σχεδιασμένα με αξονομετρική προβολή (1,2,3), αντιστοιχεί η παρακάτω διάταξη όψεων σε ορθή προβολή;



1

2

3